

المرحلة الثانية



ملاحظة: الاجابة عن خمسة اسئلة فقط مع تقديم الامثلة التسويقية (لكل سؤال 10 درجات)

س1: سنط الضوء على اهم المنصات او الوسائط التي يمكن ان يستخدمها المسوقين في مجال التسويق الالكتروني؟

س2: تكلم عن دورة حياة المنتج بوصفها احدى ادوات التنبؤ واجراء التخطيط التي تتيح لمديري التسويق ادارة المنتجات والخدمات على وفق المحاور الاتية: 'معززاً اجابتك بالرسم'

← ابرز الملامح التي تتصف بها المرحلة الاولى (التقديم)؟

← الاستراتيجيات التي ينبغي على المنظمات التسويقية اتخاذها في المرحلة الثانية (النمو)؟

س3: اجب عن فرعين فقط:

أ. ما المقصود بترويج المبيعات؟ وما الادوات التي يمكن ان يستخدمها المسوقين في هذا الاسلوب الترويجي؟

ب. حدد بنقاط الاسباب ذات الصلة بفشل الكثير من المنتجات الجديدة؟

ت. اشرح خصائص (الديناميكية، والغموض او عدم التأكد، والتعقيد) التي تتصف بها البيئة التسويقية؟

س4: اجب عن فرعين فقط :

أ. ما الاختلاف بين تعظيم قسّط السوق وتعظيم الحصة السوقية ضمن اهداف التسعير التي تسعى لها المنظمات؟

ب. قارن بين المزايا الاساسية والمزايا المرتبطة في شخصية المنتج؟

ت. اذكر المبررات المنطقية التي تقف وراء دراسة المنظمات للبيئة التسويقية؟

س5: وضح من خلال الرسم (الشكل) فقط الاتي: 'الاجابة عن الفرعين'

أ. اين تضع المنظمات الناجحة الزبون مقارنة بالمخطط التقليدي؟

ب. اركانز الاساسية التي يستند لها التوجه التسويقي في فلسفات تطور التسويق؟

س6: ما المقصود بالمفاهيم التسويقية الاتية : (اجب عن خمسة فقط)

1. الحاجات غير المعلنة 2. اسعار المكانة 3. التسويق الشفهي 4. ادارة علاقات الزبون 5. اسعار الوقتية

6. رضا الزبون 7. منتجات التسوق

مع تمنياتي لكم بالنجاح

رئيس القسم

العميد

د.د. عبدالحسين توفيق شبلبي

أ.م.د. الهام جعفر حميد

م.م. محمد عبد الرضا فرج أ.م. رأفت عواد موسى



جامعة البصرة
كلية الإدارة والاقتصاد
قسم المحاسبة
اسئلة الامتحان النهائي/ الكورس الأول
للعام الدراسي ٢٠٢٣ / ٢٠٢٤



المادة: جرائم نظام البعث المرحلة: الثانية التاريخ: ١٥ / ١ / ٢٠٢٤ الزمن: ساعتان

ملاحظة: الإجابة عن خمسة أسئلة لكل سؤال (10) درجات .

س ١ / عرف ما يأتي :

(١) المحكمة الجنائية العراقية العليا

(٢) المقابر الجماعية

س ٢ / صحح العبارات الخاطئة فيما يأتي وأعط الأجابة الصحيحة لها :

(١) تقع مقبرة خلكان في محافظة بغداد .


(٢) حدثت جريمة قمع الانتفاضة الشعبانية عام ١٩٨٢ م ضد أبناء الشعب العراقي من الأكراد .

س ٣ / تنقسم الجرائم الاجتماعية لنظام البعث على قسمين ، عدها وتكلم عن واحدة منها بإيجاز .


س ٤ / عدد خمسة فقط من قرارات الانتهاكات السياسية والعسكرية لنظام البعث .

س ٥ / تكلم وبإيجاز عن المدن العراقية التي تعرضت إلى التلوث الإشعاعي وانفجار الألغام .

س ٦ / أكتب تقريراً بحسب رأيك الخاص عن جرائم نظام البعث تجاه أبناء الشعب العراقي .


عميد الكلية

أ.د. عبدالحسين توفيق شبلي



رئيس القسم

أ.م.د. الهام جعفر الشاوي


مدرس المادة

أ.م.د. عباس عبدالعزيز صيهود

مع تمنياتي للجميع بالنجاح





ملاحظة: الإجابة على الأسئلة على أن يكون السؤال الأول من ضمنها

- 1- تعمل ملفات الاكسل امتداد Excel
- 2- تعدد الاصداء صوتيا ويعرف برقم مثل الصود 1 والصود 2
- 3- يقوم المفاتيح Delete بحذف الخلية المحددة وإزالة الخلية للأعلى
- 4- شريط الصيغة يظهر فيه اسم الخلية المحددة
- 5- ترجع الدالة IF قيمة معينة إذا كان الشرط الذي حدده بـ True وترجع قيمة أخرى إذا كان ذلك الشرط بـ False

س 1/2 اكمل الفراغات الآتية:

- 1- مربع التقاء الصود مع نصف يسمى
- 2- عبارة عن صيغ رياضية يتم إدخالها في الخلية تعطي نتائج تظهر النتائج في الخلية بدل من المعادلة
- 3- هو الشرط لظهور في التلقاء ويحتوي على اسم المعرف ويحتوي هذا الشرط على لغزات الألفاظ والتكبير والتصغير
- 4- يتم تسمية عنوان الخلية في الصود D ونصف S

س 1/3 اختر الاجابة الصحيحة :

- 1- البيانات النصية هي البيانات التي تتكون من : أ- ارقام فقط ب- حروف فقط ج- تواريخ وزمن
- 2- يتم التنقل بين اوراق العمل من خلال أ- شريط علامة تبويب الورقة ب- الشريط التعريف ج- شريط المعلومات
- 3- تقسم انواع البيانات في خلايا الاكسل الى أ- بيانات رقمية فقط ب- بيانات نصية فقط ج- بيانات رقمية او نصية او بيانات الوقت والتاريخ او المعدلات
- 4- تصنع بيانات الخلية في الاكسل تختار أ- ctrl+c ب- ctrl+v ج- Delete

س 1/4 اجب عما يلي :

- 1- كيف يتم ادراج خلية او خلايا في ورقة Excel
- 2- كيف يتم التنقل بين الخلايا في Excel
- 3- كيف يتم ادراج صود او اصداء في ورقة Excel
- 4- ماذا يفهم بشرط المعلومات

مع تمنياتي لكم بالنجاح والتوفيق

أ. د. هادي النور
رئيس القسم

أ. مهدي هادي صالح
مدرس المحاسبة

المادة: رياضيات مالية
المرحلة: الثانية
التاريخ: // 2024



أسئلة الدور الاول
للعام الدراسي
2024/2023



جامعة البصرة
كلية الإدارة والاقتصاد
قسم المحاسبة

اجب عن اربع أسئلة فقط (لكل سؤال 12.5 درجة).

- س1: / يدفع احد الأشخاص مبلغ في بداية كل شهر ثم يسحب نصفه في منتصف الشهر واصبح رصيده نهاية العام 513.6 دينار علما ان معدل الفائدة المعتمد للسحب والاداع 12% سنويا اوجد دفعة الايداعات والمسحوبات؟؟.
- س2: / اوجد المدينين المجهولتين في عمليات الاستثمار التالية، علما ان المدة الاولى تعادل ضعف المدة الثانية ، وان معدل الفائدة المعتمد هو 12% سنويا وان الرصيد النهائي في نهاية الاستثمار كان 1625 دينار؟؟.
- 200 دينار لمدة 50 يوم ، 500 دينار لمدة 70 يوم ، 300 دينار لمدة 2ن ، 600 دينار لمدة ن يوما.
- س3: / مبلغان متساويان اودع الاول للمدة ما بين 2019/3/25 و 2019/6/6 بمعدل فائدة 9% سنويا فيما اودع الثاني لمدة 5 اشهر بمعدل فائدة 6% سنويا فكان الرصيد في نهاية الفترة 6500 دينار ما هو مقدار كل من المبلغين؟؟.
- س4: / ورقة تجارية تستحق الدفع في تاريخ معين قيمتها الاسمية 4020 دينار قطعت قبل موعد استحقاقها بمعدل خصم صحيح فبلغت قيمتها الحقيقية 4000 دينار فما هو قيمة الخصم التجاري عن هذه الورقة فيما لو قطعت على اساس الخصم التجاري بنفس المعدل؟؟.
- س5: / اقترض شخص 5000 دينار لمدة 8 شهور بمعدل معين معين وبنفس الوقت اقترض مبلغ 7300 دينار لمدة 100 يوم بفائدة صحيحة فاذا كان الفرق بين جملي القرضين مبلغ 2210 دينار .
- المطلوب اوجد المعدل السنوي لكلا المبلغين لاذا علمت ان معدل الاول يقل عن معدل الثاني بمقدار 1.5% سنويا.
- س6: / اذا كان الفرق بين الخصمين التجاري والصحيح هو 4 دينار وذلك بعد ان خصم الدين قبل مواعده بثمانية اشهر بمعدل خصم 6% سنويا ما هي القيمة الاسمية؟؟.

رئيس القسم
أ.م.د الهام جعفر الشاوي

مع التمنيات بالنجاح

مدرسي المادة
أ.م.د وليد مية رودين
أ.م.د الهام جعفر الشاوي

عميد الكلية

أ.د. عبد الحسين توفيق شبلي

سحب المصرف من حساب الشركة بمبلغ 875000 واتضح فيما بعد بان الصك يعود لشركة أخرى.
 سحب المصرف من حساب الشركة قيمة كمبيالة (أوراق دفع) تبلغ 270000 دينار.
 أضاف المصرف الى الحساب فوائد دائنة بقيمة 300000 دينار ولم يرد الاشعار بها.
 استقطع المصرف من حساب الشركة خدمات مصرفية بمبلغ 12500 دينار ولم يرد اشعار بها.
 المطلوب / اعداد كشف مطابقة رصيد حساب المصرف بطريقة الوصول الى الرصيد النقدي الصحيح ؟

س/5 الاتي قائمة الميزانية المقارنة وكشف الدخل وكذلك بيانات شركة البصرة للسنة المنتهية في 2017/12/31
 شركة البصرة

الميزانية المقارنة لسنتي 2016 و2017

البيان	2017	2016	الفرق
الموجودات			
النقدية (الصندوق)	59000	66000	7000
المدينين (الصافي)	104000	51000	53000
المخزون	493000	341000	152000
مصرفات مدفوعة مقدما	16500	17000	500
استثمارات اسهم عادية	18500	15000	3500
اراضي	131500	82000	49500
معدات	187000	142000	45000
مخصص اندثار معدات	(29000)	(31000)	2000
مباني	262000	262000	
مخصص اندثار مباني	(74100)	(71000)	3100
شهرة المحل	7600	10000	2400
مجموع الموجودات	1176000	884000	
المطلوبات وحقوق الملكية			
المطلوبات			
الدائنين	132000	131000	1000
التزامات مستحقة	43000	39000	4000
ضرائب دخل مستحقة	3000	16000	13000
اوراق دفع (طويلة الاجل)	60000		60000
سندات	100000	100000	
علاوة اصدار سندات	7000	8000	1000
التزامات ضريبية مؤجلة	9000	6000	3000
مجموع المطلوبات	354000	300000	
حقوق الملكية			
اسهم عادية	60000	50000	10000
راس المال مدفوع بالزيادة	187000	38000	149000
ارباح محتجزة	592000	496000	96000
اسهم خزانة	(17000)		17000
مجموع حقوق الملكية	822000	584000	
مجموع المطلوبات وحقوق الملكية	1176000	884000	

كشف الدخل لشركة البصرة عن السنة المنتهية في 2017/12/31

المبلغ	بيان
526500	افى المبيعات
3500	ادات اخرى
530000	موجع الايرادات

(310000)	تكلفة البضاعة المباعة
(47000)	مصروفات ادارية وتسويقية
(12000)	مصروفات وخسائر اخرى
161000	الدخل قبل الضريبة
(47000)	ضرائب مستحقة
(3000)	ضرائب مؤجلة
6000	مكاسب التنازل عن الاراضي
117000	صافي الدخل

قائمة الارباح المحتجزة عن السنة المنتهية 2017/12/31

117000	صافي الدخل
496000	رصيد الارباح المحتجزة في 2017/12/1
6000	توزيعات نقدية
15000	توزيعات اسهم
592000	رصيد الارباح المحتجزة في 2017/12/31

معلومات الاضافية:

تمثل اليرادات الاخرى وقدرها 3500 دينار حصة الشركة في صافي دخل الشركة في صافي دخل شركة ميسان التي تستثمر في اسهمها حيث تمتلك الشركة 22% من اسهم شركة ميسان. اتضح من تحليل حساب المعدات ومخصص الاندثار المرتبط به الاتي:

البيان	المعدات	مخصص الاندثار	مكسب او خسارة
رصيد في 2017/1/1	142000	(31000)	
شراء معدات	53000		
بيع معدات	(8000)	2500	1500 خسارة
الاندثار عن الفترة		(11500)	
اصلاحات كبيرة في المعدات		11000	
الرصيد في 2017/12/31	187000	(29000)	

تم شراء ارض قيمتها 60000 دينار عن طريق اصدار اوراق دفع طويلة الاجل بنفس القيمة، كما استولت الحكومة على قطعة ارض كلفتها 10500 دينار وسددت الشركة 18500 دينار نقدا بما يحقق مكسب قدره 8000 دينار له اثر ضريبي قدره 2000 دينار.

التغير في مخصص الاندثار المباني، الشهرة، علاوة اصدار السندات يرجع الى قيود الاندثار في الدفاتر. اتضح من تحليل حسابات راس المال المدفوع المدرجة في حقوق الملكية ما يلي:

البيان	الاسهم العادية	راس المال المدفوع بالزيادة
الرصيد في بداية الفترة	50000	38000
اصدار توزيعات اسهم	1000	14000
بيع اسهم نقدا	9000	135000
الرصيد في نهاية الفترة	60000	187000

الفوائد المسددة تبلغ 9000 دينار وضرائب الدخل المسددة 62000 دينار.

المطلوب / اعداد قائمة التدفقات النقدية لشركة البصرة التجارية عن السنة المنتهية في 2017/12/31 ؟

م.م. ماهر اسماعيل بدران
استاذ المادة

د. ماجد احمد محمد
استاذ المادة

أ.م. د. منذر جبار داغر
استاذ المادة

أ.د. عبدالحسين توفيق شبلي
العميد

أ.م.د. الهام جعفر الشاوي
نائب قسم المحاسبة



ملاحظة / الاجابة عن اربعة اسئلة فقط . وتوزع الدرجة بالتساوي على الاسئلة .

- س ١ / ضع كلمة (صح) امام العبارة الصحيحة وكلمة (خطأ) امام العبارة الخاطئة مع تصحيح الخطأ ان وجد: (١٢.٥ درجة)
- ١- الأسم التجاري هو عنصر مادي من عناصر المحل التجاري له قيمة مالية ويمكن انتقاله للغير متى انتقلت ملكية المحل التجاري إلى الغير .
 - ٢- جعل المشرع إمساك الدفاتر التجارية واجبا أخلاقيا بالنسبة للتاجر سواء كان فردا أو شركة .
 - ٣- العمل التجاري وفق نظرية المضاربة يعرف على انه " العمل الذي يهدف إلى تحقيق الربح من خلال المضاربة على تغيير أو تبادل البضائع والمنتجات .
 - ٤- ذو الغفلة ، هو الذي لا يهتدي عادة إلى التصرفات الربحة ولا يميزها عن التصرفات الخاسرة ، فتصرفاته كتصرفات الصغير ناقص الأهلية .
 - ٥- لا يكون الدلال مسؤولا عن تنفيذ العقد إلا إذا كان وكيفا ومساررا في تنفيذ العقد .
 - ٦- يحق للشخص أن يكون عضوا في مجالس إدارة لأربعة من الشركات المساهمة المختلطة او الخاصة .

(١٢.٥ درجة)

س ٢ / اختر الاجابة الصحيحة لكل مما يأتي :

- ١- يمكن أن تكون الحصة المقدمة للمساهمة في مشروع اقتصادي عملا وهي ما تعرف بـ
أ- الحصة التجارية ب- الحصة الصناعية ج- الحصة العالية د- حصة العمل
- ٢- اعسار احد الشركاء يؤدي إلى انحلال الشركة في شركات
أ- الاموال ب- الأشخاص ج- المساهمة د- المحدودة
- ٣- في الشركات المختلطة يشترط تصويت _____ من قطاع الدولة إلى جانب القرار لكي يتم إقراره .
أ- ثلاثة ب- من خمسة إلى تسعة ج- سبعة د خمسة
- ٤- التمثيل التجاري هو اتفاق بين طرفين يتعهد بمقتضاه طرف يسمى الممثل التجاري بإبرام صفقات
أ- باسمه ولحساب موكله ب- باسم ولحساب الطرف الآخر ج- باسمه ولحسابه د- باسم ولحساب الوكيل
- ٥- _____ و _____ وجهان لرابطة قانونية واحدة .
- ٦- الحق الشخصي والواقعة القانونية ب- الحق الشخصي والالتزام ج- العمل القانوني والواقعة القانونية د- الالتزام والواقعة القانونية
- ٦- أن النسي موضوع الحق إذا كان موجودا وقت التعاقد ، ثم هلك فإن العقد يتعقد لكن نكون أمام _____
أ- استحالة تنفيذ ب- عقد غير صحيح ج- عقد باطل د- ليس من الاختبارات السابقة

(١٢.٥ درجة)

س ٣ / صحح ما تحته خط .

- ١- منح المدين من أجل الوفاء ، هي من أحكام قواعد القانون التجاري التي تدعم عنصر السرعة في العمل .
- ٢- ان التزام المحامي برفع استئناف فات ميعاده يؤدي إلى أن يكون محل الالتزام مستحيلا استحالة طبيعية .
- ٣- الحرفة تتضمن عنصر الصدفة والمخاطرة
- ٤- في الشركات التضامنية ، فإنه يمكن للعضو نقل ملكية أسهمه إلى الغير دون إشتراط موافقة الآخرين .
- ٥- تتخذ شركات القطاع العام كصيغة للتأسيس شكل الشركة البسيطة .
- ٦- يقع على التاجر التثبت من صحة البيانات الواردة في السجل وترقب مطابقتها لواقع الحال .

س ٤ / عرف الشركة وفق قانون الشركات رقم ٢١ لسنة ١٩٩٧ المعدل ، ثم ابحث في اختصاصات مجلس إدارة الشركة .

(١٢.٥ درجة)

(١٢.٥ درجة)

س ٥ / ابحث بالتفصيل في اجراءات تأسيس الشركة المساهمة المحدودة .

مع تمنياتي لكم بالنجاح

رئيس القسم

د. د. الهام الشاوي

مدرس المادة
د. زينب ياسين
أ.د. حسين عبد القادر معروف

العبد

أ.د. عبدالحسين توفيق شبلي

س4: أ- اجب عن ماياتي :

1- الجوانب الاساسية للموازنة العامة للدولة _____ و _____ و _____

2- من النقاط التي تتفق فيها المحاسبة الحكومية و المحاسبة المالية _____ و _____

ب- المطلوب تسجيل المعالجات القيدية للعمليات التالية في سجلات الجهات التي تتأثر (5 درجات)

1- في 3/1 قامت وزارة المالية بتمويل جامعة الموصل بمبلغ 300000000 دينار و تمويل جامعة بغداد بمبلغ 500000000 دينار

2- في 3/5 قامت جامعة الموصل بتمويل كلية الادارة و الاقتصاد بمبلغ 100000000 دينار

(10 درجات)

س5/ تعتمد صياغة اعداد الموازنة العامة على مجموعة من القواعد العامة عددها و اشرحها بالتفصيل .

(10 درجات)

مع تمنياتنا لكم بالنجاح والتوفيق

الرئيس القسم

أ.م.د. الهام جعفر حميد الشاوي

استاذة المادة

م.م. ايمان الضاحي

م.م. مروه نبيل عبدالله

العميد

أ.د. عبدالحسين توفيق شبلي



ملاحظة // الاجابة على اربعة اسئلة توزع الدرجة بالتساوي (12.5 درجة لكل سؤال)

س 1 / فيما يأتي معلومات وارصدة بعض الحسابات العائدة الى شركة الشمس التجارية عن السنة المالية المنتهية في 2020/12/31 :

- 1 المبيعات 500,000 دينار المشتريات 200,000 دينار.
- 2 الخصم المسموح به 8,000 دينار، الخصم المكتسب 10,000 دينار.
- 3 مردودات ومسموحات المشتريات تعادل 8% من صافي المشتريات.
- 4 مردودات ومسموحات المبيعات تعادل 4% من إيراد المبيعات.
- 5 مصاريف نقل للداخل 24,000 دينار. ومصاريف الفائدة بلغت 10,074 دينار.
- 6 ايراد العقار 30,000 دينار
- 7 المصاريف النسويقية 24,000 دينار، والمصاريف الإدارية 100,000.
- 8 - بضاعة اول المدة 170,000 دينار، وقد انخفضت في نهاية السنة بنسبة 40%.

المطلوب / اعداد قائمة الدخل للسنة المالية المنتهية في 2020/12/31، مع بيان طرق الاحتساب، علما ان ضريبة الدخل 15% ؟

س 2 / الارصدة التالية مستخرجة من ميزان المراجعة لشركة بغداد التجارية عن السنة المالية المنتهية 2022/12/31 :
مصرف الایجار 2000000 د.ع ، ايراد الاوراق المالية 1800000 د.ع ، الرواتب 11250000 د.ع ، الفائدة الدائنة 1250000 د.ع ، القرضاسية 1500000 د.ع .
وعند الجرد والتدقيق تبين ما يلي :

- 1- أن عقد الايجار الموقع مع الغير هو بمبلغ 125000 د.ع شهرياً واعتباراً من 2022/3/1.
- 2- ايراد الاوراق المالية المستلم خلال سنة 2022 يخص سنتين واعتباراً من 2022/4/1.
- 3- تبين أن هناك رواتب لم تدفعها الشركة بعد لمدة 3 أشهر من السنة المالية 2022.
- 4- الفائدة الدائنة الشهرية للشركة هي 120000 د.ع اعتباراً من 2022/2/1.
- 5- القرضاسية المستهلكة والمصروفة من مخازن الشركة هي 1100000 د.ع.

المطلوب / أثبت المعالجات المحاسبية اللازمة لتسوية أرصدة إيرادات ومصروفات شركة بغداد التجارية لسنة 2022 ؟

س 3 / فيما يلي المعلومات والارصدة المتعلقة بحقوق ملكية شركة العيناء التجارية لسنة 2022 :
صافي الدخل سنة 2022 هو 4000000 مليون د.ع ، رصيد الارباح المحتجزة لسنة 2021 هو 2200000 د.ع ،
توزيعات الارباح النقدية للمساهمين 750000 د.ع ، توزيعات الارباح بصورة الاسهم المجانية للمساهمين 450000 د.ع .
وعند البحث والتدقيق اكتشفت الشركة انها لم تحتسب مصرف ايجار مستحق بمبلغ 150000 د.ع عن سنة 2021 ،
وكذلك هناك خطأ في احتساب مصرف الاندثار على مباني الشركة في سنة 2021 بزيادة قدرها 75000 د.ع .

المطلوب / اعداد قائمة الارباح المحتجزة لشركة العيناء التجارية عن السنة المالية المنتهية في 2022/12/31 ؟

س 4 / ظهر رصيد حساب المصرف مدينا في سجلات شركة بغداد في 2020/6/30 بمبلغ 625000 دينار وظهر الرصيد مدينا في كشف المصرف بمبلغ 492500 دينار ومن خلال التحري عن الأسباب تبين الاتي:
وجود صكوك محررة من قبل الشركة بمبلغ 625000 دينار لم يتقدم أصحابها لصرفها حتى تاريخه.
وجود صكوك مودعة في المصرف للتحويل قيمتها 572500 دينار لم تظهر في كشف المصرف.
أعاد المصرف صك بمبلغ 312500 دينار بسبب عدم كفاية رصيد المدين.



ملاحظة : الاجابة عن أربعة أسئلة فقط على ان يكون السؤال الأول من ضمنها (اجباري)

(20 درجة)

س1 / فيما يلي المعاملات التي تمت في وزارة التعليم العالي والبحث العلمي

- 1- التخصيص المعتمد لحساب نفقات الاعلام ضمن الموازنة للوزارة المعنية هو 800,000,000 دينار وكان هذا التخصيص مخصص لخمس نواتر من نواتر الوزارة وهم : (مركز الوزارة , جامعة بغداد , جامعة ميسان , جامعة البصرة , جامعة نينوى) وتم توزيعه بنسبة 2:2:1:3:4 .
- 2- في 2020/10/20 صرفت الوزارة كل المبلغ المخصص لمركز الوزارة لدفع نفقات الاعلام بالصك المرقم 23152 .
- 3- في 2020/11/3 استلمت مبلغ 1,500,000 دينار نقدا عن ايجار احدى البنائات التابعة لها . وتم ايداع المبلغ لدى البنك .
- 4- في 2020/11/20 من خلال التدقيق اتضح ان الوزارة صرفت مبلغ 250000 دينار بصورة زائدة عن مخصصات بدل خطورة للشهر السابق وقد اتخذت الإجراءات اللازمة وتم استرداد المبلغ نقدا .
- 5- في 2020/12/21 بعد التدقيق لوحظ ان المبلغ المستلم عن الايجار في الفقرة 3 كان يجب ان يكون 500000 دينار وتم اجراء اللازم , ولم يتم دفع المبلغ .
- 6- في 2020/12/25 صرفت الوزارة مبلغ 120,000 دينار عن اجور نشر وإعلان في احدى القنوات التلفزيونية للإعلان عن مؤتمر بالصك المرقم 24512 .
- 7- في 2021/4/1 لوحظ من خلال التدقيق ان المبلغ المدفوع للقناة التلفزيونية عن نشر الإعلان عن المؤتمر كان يجب ان يكون 90,000 دينار . وتم اجراء اللازم وتم استرداد المبلغ نقدا .
- 8- في 2021/4/4 تم استلام مبلغ 1,000,000 دينار عن ايراد كشك مؤجر . وتم ايداع المبلغ لدى البنك .
- 9- في 2021/4/29 لوحظ من خلال التدقيق ان المبلغ المستلم عن ايراد الكشك يجب ان يكون 2000,000 دينار وتم اجراء اللازم , ولم يسترد المبلغ بعد .

المطلوب / احتساب التخصيصات للفقرة الاولى من السؤال و تسجيل المعالجات المحاسبية اللازمة في مركز وزارة التعليم العالي والبحث العلمي .

علما ان ارقام الدليل هي : رواتب 211111 , نفقات اعلام 221162 , ايجار مياي 1423219 , نفقات الإعلان 222142 , ايرادات اكشاك مؤجرة 1423217 , م. منصب 211127 , م. خطورة 211121 , بنك النفقات الاعتيادي 3212211 , نقد في الصندوق 3212111 , بنك الإيرادات المغلق 321211 , سلف متنوعة 3218114 , م. شهادة 2111215 , إيرادات متنوعة 1451190 , النقص في الإيرادات بذمة الشخص 98113341 , امانات متنوعة باسم الجهة 3318191

(10 درجات)

س2 : للخرينة عدة واجبات اذكرها بالتفصيل

(10 درجات)

س3/اجب عن مايتي :

- 1- ما هي اساليب تقدير النفقات عددها و اشرح واحدة بالتفصيل ؟
- 2- للتبويب النوعي عدة فوائد عددها .

\$1,900 and used supplies of \$ 1,800. The March 31 balance sheet should report what balance in the supplies account .

- a. \$1,500 , b. \$1,600 , c. \$1,800 , d. \$1,900

6- Al Alaa company purchased a computer for \$2,400 on December 1. It is estimated that annual depreciation on the computer will be \$480. If financial statements are to be prepared on December 31, the company should make the following adjusting entry

- a. Debit depreciation Expense , \$480; credit accumulated Depreciation \$480
b. Debit depreciation Expense , \$40; credit accumulated Depreciation \$40
c. Debit depreciation Expense \$1920; credit accumulated Depreciation \$1920
d. Debit office equipment , \$2400; credit accumulated Depreciation \$240

7- A purchase of Office supplies that was recorded in an office equipment account would require correcting entry that

- a-credits an office supplies b- credits cash c- debits an office equipment d- credits o
equipment e- None of the above.

8- Adjusting entries are made to ensure that

- a- Expenses are recognized in the period in which they are incurred
b- Revenues are recorded in the period on which they are earned.
c- Balance sheet and income statement accounts have correct balances at the period
d- All of the a above.

9- Each of the following is a major type of adjusting entries EXCEPT.

- a- prepaid expenses b- Accrued revenues c- earned revenue.

10- Adjustments for revenue received in advance

- a- Decrease liabilities and increase revenue . ,b- Have an assets and revenues account relationship , c- Increase assets and increase revenues . ,d - Decrease revenues and decrease assets .

11- Reduction in A\R or A/P that is granted if it is paid within the discount period .

- a- cash discount b- Trade discount c- discount d- None of the a above .

12- Which of the following increase A\P

- a- Customer fails to pay an invoice b- Supplier delivers good on credit c- Office supplies
are purchase with cash d- None of the above .

Q2// Answers with true or false

1- Revenue received in advance if revenue will be earned in one fiscal period .

3- received cash from customer for \$400 credited to A\P

3-purchases equipment cash for \$ 5000 debited to equipment for \$500 and credited to cash \$500 so corrected entry

From\ equipment	4500	TRUE
To\ cash	4500	



NOT- Answer only four questions , including the first and second.

Q1\ Choose the correct answer

1. Al Taha Co. pays weekly salaries for a 5-day week of \$2,000 every Friday, January 31 falls on a Thursday. The monthly adjusting entry at January 31

- a. should pay salaries of \$1,600 , b. should accrue salaries of \$400 , c. should accrued salaries of \$ 1,600 , d. should record unearned salaries of \$400

2-On January 30, Tensing company purchased supplies of \$2, 000. The supplies were all consumed in February .which of the following statements is true regarding the accounting for these supplies

- a. The supplies should be recorded as an asset in January and no adjusting entry is needed until the supplies are used in February
b. The supplies should be charged to supplies Expense in January and no adjusting entry is needed until the supplies are used in February
c. The supplies should not be recorded in the accounting records until used in February
d. The adjusting journal entry at the end of January will include a debit to supplies Expense and credit to supplies for \$2,000

3-On February 28, Sara Co. receives the months utility bill which due on march 15. Which of the following statements is true regarding the accounting for February utilities

- a. The expense should be accrued in February by debiting utilities Expense and crediting cash
b. The expense should be accrued in February by debiting utilities Expense and crediting utilities payable
c. The adjusting entry at February 28 should include a debit to Utilities Payable and a credit to Utilities Expense
d. The adjusting entry at February 28 should include a debit to Prepaid Utilities and a credit to cash

4-Al Ali company purchased office supplies costing \$ 4,000 and debited office supplies for the full amount. at the end of accounting period, a physical count of office supplies revealed \$1,600 still on hand .The appropriate adjusting journal entry to be made at the end of the period would be

- a. Debit office supplies Expense \$ 1,600; credit office supplies \$ 1,600
b. Debit office supplies, \$ 2,400 ; credit office supplies Expense, \$2,400
c. Debit office supplies Expense, \$2,400; credit office supplies\$2,400
d Debit office supplies \$ 1,600; credit office supplies Expense \$ 1,600

5-At march 1,2006 Merem Time Inc. had supplies on hand of \$1,500.During the month Merem purchased supplies of

المادة: ادارة التسويق
والتجارة الالكترونية
المرحلة: الثانية
الوقت: ساعتان
التاريخ: 2024 / 1 / 10



اسئلة الامتحان
النهائي
الدور - الاول
الكورس الاول للعام
الدراسي
2024/2023



جامعة البصرة
كلية الإدارة والاقتصاد
قسم المحاسبة
الدراسات الصباحية
والمسائية

ملاحظة: الاجابة عن خمسة اسئلة فقط مع تقديم الامثلة التسويقية (لكل سؤال 10 درجات)

س1: سلط الضوء على اهم المنصات او الوسائط التي يمكن ان يستخدمها المسوقين في مجال التسويق الالكتروني؟

س2: تكلم عن دورة حياة المنتج بوصفها احدى ادوات التنبؤ واجراء التخطيط التي تتيح لمديري التسويق ادارة المنتجات والخدمات على وفق المحاور الاتية: 'معزراً اجابتك بالرسم'
← ابرز الملامح التي تتصف بها المرحلة الاولى (التقديم)؟
← الاستراتيجيات التي ينبغي على المنظمات التسويقية اتخاذها في المرحلة الثانية (النمو)؟

س3: اجب عن فرعين فقط:

أ. ما المقصود بترويج المبيعات؟ وما الادوات التي يمكن ان يستخدمها المسوقين في هذا الاسلوب الترويجي؟
ب. حدد بنقاط الاسباب ذات الصلة بفشل الكثير من المنتجات الجديدة؟
ت. اشرح خصائص (الديناميكية، والغموض او عدم التأكد، والتعقيد) التي تتصف بها البيئة التسويقية؟

س4: اجب عن فرعين فقط :

أ. ما الاختلاف بين تعظيم قسط السوق وتعظيم الحصة السوقية ضمن اهداف التسعير التي تسعى لها المنظمات؟
ب. قارن بين المزايا الاساسية والمزايا المرتبطة في شخصية المنتج؟
ت. اذكر المبررات المنطقية التي تقف وراء دراسة المنظمات للبيئة التسويقية؟

س5: وضح من خلال الرسم (الشكل) فقط الاتي: 'الاجابة عن الفرعين'

أ. اين تضع المنظمات الناجحة الزبون مقارنة بالمخطط التقليدي؟
ب. الركائز الاساسية التي يستند لها التوجه التسويقي في فلسفات تطور التسويق؟

س6: ما المقصود بالمفاهيم التسويقية الاتية : (اجب عن خمسة فقط)

1. الحاجات غير المعنونة / 2. اسعار المكانة / 3. التسويق الشفهي / 4. ادارة علاقات الزبون / 5. اسعار الوقتية / 6. رضا الزبون / 7. منتجات التسوق

تكنولوجيا

مع تمنياتي لكم بالنجاح

العميد

رئيس القسم

مدرس المادة

ا.د. عبد الحسين توفيق شبلني

ا.م.د. الهام جعفر حميد

م.م. محمد عبد الرضا فرج ا.م. رافت عواد موسى

المرحلة الثالثة

المادة: محاسبة الضريبية
المرحلة: الثالثة
التاريخ: / / 2023
الزمن: ساعتان



أسئلة الامتحان
النهائي
للعام الدراسي
2024/2023
الدور الاول



جامعة البصرة
كلية الإدارة والاقتصاد
قسم المحاسبة
الدراسات الصباحية
والمسائية

ملاحظة: الاجابة عن ثلاثة اسئلة على ان يكون السؤال الاول من ضمنها

السؤال الأول // يعمل احمد خبير قانوني في احدى الشركات المساهمة قطاع خاص براتب شهري مقداره 1600000 دينار ابتداء من 2015/4/1، ومشارك بحصة الربح في مشروع تجاري بلغت صافي ارباحه للسنتين 2015 ، 2016 الماليتين 18000000 دينار، 24000000 دينار على التوالي، وقد توفرت لديك المعلومات الشخصية الآتية:

- الاب عمره 62 سنة لغاية 2015/12/31
- متزوج من اثنين الأولى ربت بيت توفت بتاريخ 2014/7/1 والثانية موظفة براتب شهري مقداره 1200000 دينار، علما ان تاريخ زواجه الثاني في 2015/7/1
- لديه 5 أولاد من زوجته الأولى أكبرهم بنت عمرها 28 سنة غير متزوجة، والثاني طالب دراسات عليا 26 سنة، والثالثة عمرها 25 سنة متزوجة وزوجها عاطل عن العمل، والرابع 22 سنة طالب جامعي، والخامس 18 سنة ويعمل مع عمه في مشروع تجاري براتب شهري مقداره 650000 دينار اعتبارا من 2016/1/1.
- لقد رزق بطفل من زوجته الثانية بتاريخ 2016/10/1
- المطلوب/حساب مقدار الدخل الخاضع للضريبة بعدالسماحات للسنتين 2015 و 2016

(20درجة)

(15درجة)

السؤال الثاني// اجب عن ما يلي:

1- وضع معنى مصطلح المقيم وغير المقيم في قانون رقم 113 لسنة 1982 المعدل وماهي نواحي التفرقة بين

المقيم وغير المقيم سواء عراقي او غيره؟

2- ماهي أسباب التهرب الضريبي وضحتها بالتفصيل؟

3- وضع الحالات التي يمكن من خلالها التمييز بين الضريبة والرسم والتمن العام؟

السؤال الثالث// بين هل يعد الاشخاص ادناه مقيمين ام غير مقيمين وما مقدار الدخل الخاضع للضريبة؟ (15درجة)

1- عدنان عراقي عمل في الأردن للمدة من 2010/7/1 لغاية 2012/11/1 براتب شهري 1600000 دينار زار العراق

للمدة من 2011/11/1 لغاية 2012/3/1

2- تايلاندي عمل في العراق سائقا في المنشأة العامة لنقل الركاب للمدة من 2015/9/1 لغاية 2016/4/1 براتب شهري

200000 دينار

3- عراقي عمل في الجزائر لدى شركة فرنسية للتنقيب عن النفط براتب شهري يعادل 400000 دينار عراقي للمدة من

2019/3/1 لغاية 2021/11/1

زار العراق للمدة من 2019/12/1 لغاية 2020/2/1. بفرض أنه لا يخضع للضريبة عن دخله في الجزائر.

4 - الماني عمل في شركة المانية عملت بتنفيذ إحدى مشاريع التنمية في العراق منذ 2000/11/1 لغاية 2002/8/1 براتب

يعادل 300000 دينار

5- ايطالي عمل مدربا لفريق كرة القدم في نادي الزوراء للمدة من 2017/10/1 ولغاية 2019/3/1 براتب شهري يعادل

400000 دينار

5- كويبية عملت ممرضة في مستشفى الشفاء قطاع خاص في بغداد للمدة من 2020/7/1 لغاية 2022/5/1 براتب شهري

يعادل 800000 دينار عراقي زارت كوبا للمدة من 2020/10/1 لغاية 2020/11/1.

6- (أ و ب و ج) ثلاث صينيين عملوا في العراق للمدة من 2008/10/1 لغاية 2009/10/1 وكلاتي:

أ- يعمل في مشروع تجاري قطاع خاص راتبه الشهري 250000 دينار

ب- عمل منظفا في مشروع صناعي يتمتع بالاعفاء بموجب قانون تنمية صناعية راتبه شهر 150000 دينار

ج- عمل خبيرا فنييا في جامعة الانبار براتب شهري 280000 دينار

(15 درجة)


السؤال الرابع // ما المقصود بكل مما يأتي:

وعاء الضريبة ، الدخل الذاتي، العدالة الضريبية ، السماحات القانونية ، التخطيط الضريبي ،

معلومات اضافية:

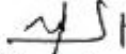
السماحات القانونية: لذاته 250000، لزوجته 200000، الاولاد 20000 ، كبر السن 30000 ، الارملة او المطلقة 32000

مع تمنياتنا لكم بالنجاح



العميد

أ.د. عبدالحسين توفيق شبلي



رئيس القسم
أ.م.د. الهام الشاوي



مدرس المادة
م.م محمد فرج



ملاحظة: الإجابة على خمسة أسئلة فقط ولكل سؤال 10 درجة.

س 1- اختر الإجابة الصحيحة مما يلي:

1 - تتصف محاسبة التكاليف على انها:

أ - توفر معلومات تحليلية ب - توفر معلومات اجمالية ج - توفر معلومات تاريخية د - كل ما تقدم

2 - المصطلح المحاسبي بالغة الإنجليزية المقابل لمصطلح كلفة التشكيل:

أ - Cost Indirect ب - Overhead cost ج - Conversion cost د - Direct cost

3 - التكاليف الصناعية التي تشمل على جزء تكاليف متغيرة والجزء الاخر تكاليف ثابتة هي:

1 - التكاليف المشتركة ب - التكاليف المختلطة ج - التكاليف العامة د - كل ذلك

4 - طريقة معدل المصنع تقضي بان يتم احتساب معدل تحميل:

أ - لكل قسم انتاج ب - لكل قسم خدمات ج - للمصنع د - لكل من اقسام الخدمات واقسام الإنتاج

5 - ساعات العمل الاضافي مضروبة بمقدار الزيادة في الاجر هي:

أ - أجور غير مباشرة ب - أجور مباشرة ج - أجور متغيرة د - أجور ثابتة

6 - الطريقة تؤدي الى ان يكون تقييم رصيد المواد بخليط أسعار كافة المشتريات هي:

أ - طريقة الوارد أولا صادر أولا ب - الوارد أخيرا صادر أولا ج - طريقة المعدل المتحرك د - طريقة المعدل الموزون

7 - الطريقة التي تسعر رصيد المواد والمواد الصادرة الى الإنتاج بأحدث الأسعار هي:

أ - طريقة الوارد أولا صادر أولا ب - الوارد أخيرا صادر أولا ج - طريقة المعدل المتحرك د - طريقة المعدل الموزون

8 - التكاليف المتغيرة 75000 دينار لإنتاج 7500 وحدة، فإذا تم انتاج 6000 وحدة، فان الكلفة المتغيرة للوحدة للمنتجة هي:

أ - 12.5 دينار ب - 10 دينار ج - 7.5 دينار د - 6 دينار

9 - التكاليف الثابتة 80000 دينار في ظل انتاج 8000 وحدة، فإذا تم انتاج 10000 وحدة فان التكاليف الثابتة هي:

أ - 120000 دينار ب - 80000 دينار ج - 100000 دينار د - 88000 دينار

10 - تعتبر كلفة ايجار المصنع من حيث تصنيف التكاليف حسب علاقتها بوحدة النشاط تكلفة:

أ - صناعية ب - ادارية ج - تسويقية د - غير ذلك

س 2 - يعمل في شركة التطوير 10 عامل، وتدفع الشركة معدل اجر 1500 دينار لساعة العمل وزيادة 50% عن العمل الإضافي نهارا، وكان العمل خلال الأيام الاحد والاثنين والثلاثاء والخميس 8 ساعة يوميا و 11.5 ساعة ليوم الأربعاء، وبلغ التوقف الطبيعي ساعة يوميا خلال ايام العمل.

المطلوب:

1 - احتساب اجمالي أجور العمال للأسبوع وعلاوة العمل الإضافي للعمال.

2 - احتساب اجمالي الأجور المباشرة للعمل خلال الأسبوع

3 - تسجيل قيد تحميل الأجور المباشرة على الإنتاج.

س 3 - قدمت اليك احدى الشركات البيانات الاتية:

البيان	أساس التخصيص	المبلغ		اقسام خدمات الانتاج		اقسام الانتاج	
		أ	ب	ج	د	أ	ب
المجاميع الاولية		6000	8000	23000	20000		
المساحة		2 م 30	2 م 30	2 م 80	2 م 50		
ساعة عمل مباشر		150		100	150		

فاذا علمت بان اقسام الخدمات تتبادل الخدمات فيما بينها، وان تكاليف قسمي الإنتاج تخصص على أساس ساعات العمل المباشر، وان المنتج ص يمر بقسم الإنتاج ج ويستهلك 60 ساعة عمل مباشر، ويستهلك في قسم انتاج د 100 ساعة عمل مباشر، وتكاليف المنتج ص من المواد المباشرة في القسم ج بلغت 50000 دينار ومن الأجور المباشرة في القسم د 40000 دينار، وان قسم الخدمات (ب) يقدم خدماته الى اقسام الإنتاج وتقسم الخدمات (أ)، وقسم خدمات (أ) يقدم خدماته الى اقسام الإنتاج فقط.

- المطلوب: 1- تخصيص تكاليف اقسام الخدمات بطريقة التنازلي وبأعداد كشف تخصيص التكاليف الصناعية الاضافية.
2 - احتساب معدلات التحميل لقسمي الإنتاج وحصة المنتج ص من التكاليف الصناعية الاضافية واجمالي تكاليف المنتج ص.

س 4 - قدمت اليك احدى الشركات البيانات الآتية: في 1- 7 الرصيد 1000 وحدة بسعر 10 دينار للوحدة، في 10 - 7 الصادر للإنتاج 600 وحدة، في 14 - 7 مشتريات 500 وحدة بسعر 15 دينار للوحدة، في 16 - 7 صادر الى الإنتاج 700 وحدة، في 19 - 7 وحدات معادة الى المخازن 100 وحدة، 24 - 7 مشتريات 500 وحدة بسعر 20 دينار للوحدة، 30 - 7 الصادر للإنتاج 800 وحدة.
المطلوب: تسعير العواد الصادرة والرصيد بطريقة المعدل الموزون.

س 5- قدمت اليك البيانات الاتية الخاصة بأحدى الشركات لمدة (اربعة أشهر):

الشهر	كمية الانتاج	تكاليف الصيانة
ك 2	24 وحدة	690 دينار
شباط	18 وحدة	600 دينار
آذار	22 وحدة	660 دينار
نيسان	30 وحدة	780 دينار

- المطلوب: 1- فصل تكاليف الصيانة الى التكاليف المتغيرة والتكاليف الثابتة بطريقة الحد الاعلى والادنى.
2- اذا قدرت كمية الانتاج لشهر مايس ب 26 وحدة، فكم ستكون تكاليف الصيانة لذلك الشهر.

س 6 - تعتمد شركة الغدير نظام الاجر بالحوافز وتدفع 1000 دينار للساعة مقابل انتاج 500 وحدة في اليوم، اذا زاد الانتاج عن 400 وحدة فتدفع اجر اضافي بمعدل 16 دينار للوحدة، وقد بلغت الوحدات المنجزة لأحد العمال في يوم الاحد 500 والاثنين 450 والثلاثاء 520 والاربعاء 480 والخميس 530. فاذا علمت ان الساعات المتحققة خلال ايام العمل 8 ساعة يوميا.

- المطلوب: 1- احتساب اجمالي الاجر للعامل للأسبوع.
2- احتساب الاجور المباشرة للعمال خلال الاسبوع.

مع تمنياتي لكم بالنجاح


رئيس القسم

أ. م. د. الهام الشاوي



م. علي طه ياسين

مدرسي المادة

أ. د. هاشم علي هاشم



Note: Answer five questions only. 10 Marks for each question.

A: Change the following active sentences into passive voice.

- The dog chased the cat.
- Everyone loves Zara.
- Miss Mary teaches us English.
- English is taught to us by Miss Mary.
- The cat ate the fish.

B: Change the following passive sentences into active voice.

- The windows have been cleaned by someone.
- Has the work been done by him?
- The girl was teased by the boy.
- Bananas are being eaten by them.
- The guitar is always played by Jacob.

(10M)

Choose the correct preposition from the parenthesis.

- We eat breakfast the morning. (a. on b. in c. at d. for)
- Families often argue Christmas time. (a. on b. in c. at d. for)
- I learned how to ski the holidays. (a. around b. throughout c. until d. during)
- It was six in the morning when we made it to bed. (a. around b. about c. until d. at)
- The store is open Midnight. (a. around b. about c. until d. at)
- The images are the page. (a. on b. in c. at d. for)
- The juice is the jar the fridge. (a. on/in b. in/in c. in/at d. in/for)
- The boys are the entrance the movie theater. (a. at/in b. in/at c. at/at d. on/at)
- Put the sandwich there. (a. on b. in c. over d. at)
- Rebecca and Judi are swimming the lake. (a. on b. across c. for d. until)

(10M)

Correct the underlined conjunction.

I like cooking or eating, and I don't like washing dishes afterward.

2. Sophie is clearly exhausted not she insists on dancing till dawn.
3. I work quickly either carefully.
 4. We needed a place to concentrate, and we packed up our things and went to the library.
 5. Because he leaves, make sure his room is clean.
 6. I drank a glass of water so I was thirsty.
 7. Have a safe trip. And don't forget to call on you get home.
 8. I tried my best through I didn't pass.
 9. After it was hot, she was wearing a coat.
 10. You can have neither tea nor coffee for break.

----- (10M)

Q4: Choose the correct definite or indefinite articles.

1. Who is lady in picture? (a. a/a b. the/a c. a/the d. the/the)
2. I visited South Africa last summer. (a.- b. a c. an d. the)
3. Jamy likes music, he plays instrument. (a.-/a b. an/the c. an/- d. -/an)
4. Look at sea! (a. the b. a c. - d. an)
5. Would you like to have some juice? (a. a b. an c. the d. -)
6. They have shop in Oxford Street. (a.- b. the c. an d. a)
7. My house is in the south of city. The shop is on the left.
(a.- b. a c. an d. the)
8. We spent a whole week in Madrid. I spent the whole day watching TV.
(a. a b. an c. the d. -)
9. Please switch off TV when you finish. (a. an b. a c. - d. the)
10. We arrived in USA last Friday. (a. a b. an c. - d. the)

----- (10M)

5: Complete the following sentences.

- . I will earn a lot of money if I that job. (get)
- . If he tried harder, he his goals. (reach)
- . If we to the radio, we would have heard the news. (listen)
- . If you rest, you feel better. (be)
- . If you told me you needed a ride, I would have left earlier. (have)
- . If I study, I pass the exams. (will)
- If we in Rome, Francesco would visit us. (live)
- If Susan studied harder, she better at school. (be)

9. If John had learned more words, he a good report. (write)

10. If you had told me you needed a ride, I would left earlier. (have)


(10M)


Q6: Complete the sentences, using the comparative and superlative of the adjectives in brackets.


1. Today is..... yesterday. (hot)
2. Our house isthan yours. (big)
3. The princess isthan the witch. (beautiful)
4. It is theshop in town. (large)
5. Monday is theday of the week. (bad)
6. My sister thinks she's(intelligent) than me, but I don't agree!
7. Your daughter is her brother. (thin)
8. What is(wet) month of the year in England?
9. Do you think the Harry Potter films are(good) than the books?
10. Who is(powerful) person in your country?


(10M)

Good Luck


Dr. Hadi Alabrrow
Lecturer


Dr. Ammar Yousif
Lecturer


Dr. Elham Alshawe
Head of the Dept.


Dr. Abdulhussain Tawfeeq
The Dean



الإجابة عن أربعة أسئلة فقط (لكل سؤال 12.5)

س1 // كان رصيد حساب مخزون المخلفات والمستهلكات في سجلات إحدى الشركات الصناعية في 1 / 1 / 2007 مبلغ 56000 دينار يمثل قيمة مخلفات إنتاج مقدره بمبلغ 350 دينار للوحدة الواحدة سبق وان ادخلت المخزن من العام الماضي. وفي 15 / 3 / 2007 ادخلت المخزن مخلفات إنتاج اخرى قدرت قيمتها الاجمالية بمبلغ 42000 دينار وقيمة الوحدة الواحدة 300 دينار. وفي 15 / 4 / 2007 تم بيع جميع هذه المخلفات بمبلغ 325 دينار للوحدة الواحدة لأحدى شركات القطاع الخاص واستلم المبلغ بصك

المطلوب: اثبات قيود اليومية اللازمة وتصوير الحسابات المعنية في سجلات الشركة.

س2 // احتلت مقاوله انشاء مبنى لحساب الشركة العامة للسيارات بمبلغ 30000000 دينار بعهددة الشركة العامة للمقاولات الإنشائية وقد احوالت هذه الاخيرة اعمال الصب والتسليح لهذا المبنى بعهددة أحد المقاولين الثانويين من القطاع الخاص بكلفة 8000000 دينار كمقاوله ثانوية وقد تم الاتفاق بين المقاول الرئيسي والمقاول الثانوي بتاريخ 15 / 1 / 2017 على ما يأتي:

-يدفع المقاول الرئيسي الى الثانوي سلفة تبلغ 1000000 دينار يتم استقطاعها بدفعة واحدة من الذرعة الاولى.

-يستقطع من المقاول الثانوي تأمينات صيانة بنسبة 8% من قيمة العمل المنجز وتعاد بعد انتهاء فترة الصيانة

-وتحسب الغرامات التأخيرية على المقاول الثانوي بمقدار 1000 دينار عن كل يوم تأخير في انجاز العمل.

-انجز المقاول الثانوي العمل بفرعتين الاولى كانت بتاريخ 7 / 2 / 2017 بمبلغ 5000000 دينار والثانية بتاريخ

17 / 3 / 2017 بكامل قيمة المقاوله وذلك خلال الفترة المقررة وفي كل ذرعة من هذه الفرعات كان يسدد استحقاق

المقاول الثانوي بعد تطبيق شروط العقد. وقد أعيدت تأمينات الصيانة الى المقاول الثانوي بعد انتهاء فترة الصيانة

المطلوب: -

1- اثبات قيود اليومية للعمليات الخاصة بالمقاوله الثانوية في سجلات المقاول الرئيسي وسجلات المقاول الثانوي

2- تصوير الحسابات المعنية في سجلات كلا الجهتين.

...

س3 // بتاريخ 1 / 4 / 2018 قامت إحدى الشركات الصناعية في القطاع الخاص والمتخصصة في إنتاج زيوت محركات السيارات بحملة اعلانية للترويج الى منتوجها الجديد قبل عرضه في الاسواق المحلية وقد بلغت كلفة هذه الحملة مبلغ 250000 دينار سددت بصك.

بتاريخ 1 / 7 / 2018 بدأت الشركة في البيع وتمت الاستغادة من حملتها الاعلانية في زيادة الطلب على منتوجها الجديد من قبل المستهلكين. وبتاريخ 31 / 12 / 2018 قررت الشركة اطفاء النفقات المذكورة اعلاه على مدى 5 سنوات.

المطلوب: تسجيل قيود اليومية اللازمة للعمليات اعلاه وقيد اطفاء نفقات الحملة الاعلانية للسنة الاولى فقط


المصوب. قيود اليومية الخرمه للعمليات اعلاه في سجلات الشركة العراقية التجارية وحلت بصوير الحسابات المعنية


بدفتر الاستاذ للشركة


س115 قررت احدى الشركات الزراعية انشاء مجموعة من المخازن عن طريق التنفيذ المباشر بكلفة تقديرية تبلغ 45000 دينار وقد كلفت لجنة البناء الداخلي في الشركة بهذه المهمة وتم تسليفها مبلغ 15000 دينار لهذا الغرض. باشرت اللجنة بتنفيذ العمل وانجزته ب 3 ذرعات الاولى كانت بمبلغ 13000 دينار واجمالي الثانية 27800 دينار واجمالي الثالثة بمبلغ 42700 دينار وقد قدمت اللجنة مصروفاتها معززة بالقوائم والمستندات وقد تم تعزيز السلفة في الذرعتين الاولى والثانية وتصفيتهما بالذرة الثالثة بسبب انتهاء العمل واستلام المبلغ المنتقي من اللجنة. وتمت المباشرة باستخدام هذه المخازن.
المطلوب: اجراء قيود اليومية اللازمة للعمليات اعلاه وتصوير الحسابات المعنية في سجلات الشركة.

مع تمنياتنا لكم بالنجاح

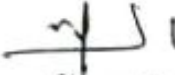
مدرسي المادة


أ.م.د. عبد الخالق ياسين البدران


أ.م.د. عدي صفاء الدين البطاط


عميد الكلية

أ.د. عبد الحسين توفيق شبلي


رئيس القسم

أ.م.د. الهام جعفر الشاوي



ملاحظة // الاجابة على ثلاثة اسئلة بشرط ان يكون السؤال الاول بضمنها (اجباري)

س ١ / (أ ، ب ، ج) شركاء في شركة تضامنية يتقاسمون الارباح والخسائر بنسبة (٥ : ٣ : ٢) ، وبسبب توالي الخسائر وانخفاض رأس المال الكلي للشركة قرر الشركاء في تاريخ ١/١/٢٠٢٢ تصفية الشركة التضامنية وتعيين مصفى لها الغرض وكانت الميزانية العمومية للشركة في ذلك التاريخ كما يلي :

الاصول	الخصوم
المباني	قرض المصرف
٢٥٠٠٠٠٠	٧٥٠٠٠٠٠
مخصص اندثار المباني (٢٢٥٠٠٠٠)	اوراق الدفع
٦٠٠٠٠٠٠	٦٠٠٠٠٠٠
المكانن	الدائنون
١٥٠٠٠٠٠	٤٥٠٠٠٠٠
مخصص انثار المكانن (١٥٠٠٠٠٠)	
الاثاث	رأس مال الشريك أ
١٠٠٠٠٠٠	١٨٠٠٠٠٠
مخصص اندثار الاثاث (٤٧٥٠٠٠٠)	رأس مال الشريك ب
١٢٠٠٠٠٠	١٢٠٠٠٠٠
المدينون	رأس مال الشريك ج
٤٠٠٠٠٠٠	٦٥٠٠٠٠٠
مخزون البضاعة	
٦٠٠٠٠٠٠	
النقدية	
٣٠٠٠٠٠٠	
الاجمالي	الاجمالي
٥٤٥٠٠٠٠٠	٥٤٥٠٠٠٠٠
دينار	دينار

وقد قام المصفي بالخطوات الاتية :

- ١- تم بيع المباني بمبلغ ٢٠ مليون دينار ، والمكانن بمبلغ ١٢ مليون ، والاثاث بمبلغ ٥,٥ مليون دينار.
- ٢- تم بيع مخزون البضاعة بمبلغ ٤,٥ مليون دينار ، وحصل من المدينون مبلغ ٣,٥ مليون دينار.
- ٣- سدد المصفي قرض المصرف واوراق الدفع بالكامل وحصل على تخفيض ٢٥% عند تسديد الدائنون.
- ٤- بلغت مصاريف واجور التصفية (اعلان ١٠٠٠٠٠٠ ، رسوم قضائية ١٥٠٠٠٠٠ ، اجور المصفي ٢٥٠٠٠٠٠ المطلوب / اثبات المعالجات المحاسبية لتصفية الشركة التضامنية بطريقة حساب التصفية ؟ (٢٠ درجة)

س ٢ / احمد ومثنى وناصر شركاء في شركة تضامنية يتقاسمون دخل الشركة بنسبة (١٠ : ٦ : ٤) على التوالي ، حصة رؤوس اموالهم ٥٥ مليون د.ع ، ٢٥ مليون د.ع ، ٢٠ مليون د.ع على التوالي. وفي تاريخ ١/١/٢٠٢٢ وا الشركاء على زيادة رأس المال الكلي للشركة عن طريق قبول انضمام رجل الاعمال قاسم الى الشركة التضامنية كشر رابع وبالشروط الاتية :

- ١- يتم اعادة تقدير الاصول الثابتة للشركة حسب القيمة السوقية لها وبانخفاض قدره ٥ مليون دينار.
- ٢- المبلغ المدفوع من قبل رجل الاعمال قاسم هو ٣٠ مليون دينار نقداً.
- ٣- تكون حصة الشريك الرابع هي خمس راس المال بعد الانضمام.
- ٤- يعالج الفرق ان وجد على انه شهرة محل.
- ٥- يحصل الشريك الرابع على ربع الارباح والخسائر بعد الانضمام.

المطلوب / اثبات المعالجات المحاسبية اللازمة لانضمام رجل الاعمال قاسم الى الشركة وزيادة رأس مالها الكلي ؟ (١٥ درجة)

س ٣ / (A ، B ، C ، D) شركاء في شركة تضامن يتقاسمون الارباح والخسائر بنسبة (٦ : ٤ : ٣ : ٢) التوالي ، وبتاريخ ١/١٢/٢٠٢٢ بلغت ارصدة رؤوس اموالهم ٢٠ مليون ، ٣٠ مليون ، ٥٠ مليون ، ٥٠ مليون التوالي وبنسبة (٢ : ٣ : ٥ : ٥) على التوالي.

يخ ٢٠٢٣/١/١ قرر C الانفصال عن الشركة التضامنية لأسباب شخصية بشرط أن تدفع الشركة التضامنية ٦٠ دينار نقداً ، وفي ذلك التاريخ وافق الشركاء على انسحاب الشريك C بشرط إعادة تقدير الاصول الثابتة للشركة امنية من ٦٥ مليون دينار (بقيمتها الدفترية) لتصبح ٧٧ مليون دينار (بقيمتها السوقية) . علماً ان سياسة الشركة جة الفرق هي كشهرة محل.

وب / اثبات المعالجات المحاسبية لانسحاب الشريك C من سجلات الشركة التضامنية ؟ (١٥ درجة)

٤ / في ٢٠٢٢/١/١ اتفق اربعة اشخاص (احمد ، علي ، حسن ، محمد) على تأسيس شركة تضامنية برأس مال يبلغ ٢٠٠ مليون دينار موزع بينهم بنسبة (١٥% ، ٢٥% ، ٣٢% ، ٢٨%) . تاريخ التأسيس قدم الشركاء سداد حصصهم بالشروط والصور التالية :

- ١- قدم الشريك احمد حصته برأس المال بصك مصدق.
- ٢- قدم الشريك علي حصته برأس المال بضاعة قيمتها الدفترية ٤٢ مليون دينار بالإضافة الى كمبالة بقيمة ١٠ مليون دينار ، وقد قدرت القيمة السوقية للبضاعة بقيمة ٣٨ مليون دينار.
- ٣- قدم الشريك حسن حصته برأس المال اثاث و معدات تكاليفهما بالسجلات تبلغ ٧٢ مليون دينار بينما قدر خبراء السوق قيمة الاثاث بمبلغ ٣٦ مليون دينار و قيمة المعدات بمبلغ ٢٤ مليون دينار.
- ٤- قدم الشريك محمد بناية مخزن تسديداً لحصته برأس المال تبلغ الكلفة التاريخية للمخزن ٧٠ مليون دينار ويندرج سنوياً بقسط ثابت قدره ٥٠٠٠٠٠٠ دينار مستخدم لمدة ٥ سنوات ، بينما قدرت القيمة السوقية للمخزن بقيمة ٦٠ مليون دينار.

٥- اتفق الشركاء بمعالجة فروقات التستيد نقداً.


٦- يتقاسم الشركاء الارباح والخسائر سنوياً حسب نسبة حصصهم برأس المال.

٧- في نهاية السنة المالية الاولى ٢٠٢٢ حققت الشركة التضامنية صافي ربح قدره ٤٠ مليون دينار.


للوب / اثبات المعالجات المحاسبية اللازمة لتأسيس الشركة التضامنية وتوزيع الدخل المتحقق لسنة ٢٠٢٢ مع بيان الميزانية الافتتاحية للشركة ؟ (١٥ درجة)



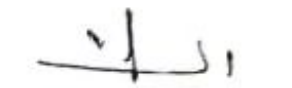
م.م. ماهر اسماعيل بدران
أستاذ المادة



عبدالحسين توفيق شبلي
استاذ المادة



أ.د. عبدالحسين توفيق شبلي
العميد



د. الهام جعفر الشاوي
م.م. قسم المحاسبة



Note : Answer Four Questions Only

Q1/ The following is a comparative income statement for Poco Co. as December 31, 2019 and 2020

Particulars	2019		2020	
	Amount	Percent	Amount	Percent
Sales	500,000	?	?	120%
Sales returns and allowances	?	25%	120000	?
Net sales	?	?	?	?
Cost of goods sold	?	?	?	% 40
Gross profit	?	50%	?	?
Operating expenses	?	?	144000	?
Net income	?	20%	?	?

Instructions// Fill the missing data using vertical analysis method.

Q2/ Financial information for Sinead Inc. is presented below.

	December 31, 2013	December 31, 2012
Current assets	125,000	100,000
Plant assets (net)	396,000	330,000
Current liabilities	91,000	70,000
Long-term liabilities	133,000	95,000
Common stock, \$1 par	161,000	115,000
Retained earnings	136,000	150,000

Instructions// Prepare a schedule showing a horizontal analysis for 2013

Q3/ The following are the summarized Profit and Loss A/c and Balance Sheet of Zane Ltd. Fc

Particulars		Particulars	
To Opening Stock 99,000		By Sales 950,000	
To Purchases 545,000		By Closing Stock 150,000	
To Freight Inward 16,000			
To Gross Profit 440,000			
1,100,000		1,100,000	
To Operating Expenses 200,000		By Gross Profit 440,000	
To Loss on Sale of Asset 40,000.		By Non-operating income 60,000	
To Net Profit 260,000			
500,000		500,000	
Liabilities and Equity		Assets	
Share Capital	200,000	Land and Building	150,000
Reserve and Surplus	260,000	Plant and Machinery	180,000
Bill Payable	40,000	Stocks	150,000
Other Current Liabilities	90,000	Debtors	45,000
		Bills Receivable	5,000
		Cash & Bank	60,000
	590,000		590,000

Instructions// Calculate the following: 1. Gross Profit Ratio. 2. Operating Profit Ratio. 3. Return on Capital Employed. 4. Proprietary Ratio. 5. Accounts Receivable Turnover Ratio. 6. Current Ratio ; Fixed Assets Turnover Ratio. 8. Net Profit Ratio. 9. Working Capital Turnover Ratio. 10. Inventory Turnover Ratio. (10 marks)

Q4/A/ The following information's are abstracted from books Bassam Co. :

- 1) Net Income was IQD 120000
- 2) Bonds payable increased IQD 50000

..... Follow

- 3) There was a gain on sale of equipment of IQD 20000 (the equipment had a book value of IQD 30000).
- 4) Accounts Receivable decreased IQD 50000
- 5) Accounts Payable decreased IQD 20000
- 6) Prepaid Rent increased IQD 10000
- 7) Dividends totaling IQD 20000 were paid.
- 8) Depreciation was IQD 20000
- 9) Common Stock increased IQD 50000
- 10) Land increased IQD 100000 (purchased land for IQD 100000)
- 11) Beginning cash IQD 10000
- 12) Ending Cash IQD 180000

Instructions// Prepare the statement of cash flows by using the indirect method and compute the cash flow ratio (15 marks)

Q4/B/ Belta manufacturers in China produce car engines. Their total assets are worth \$3,500,000 while they have a working capital of \$4,200,000. Their liabilities stand at \$5,000,000 while retained earnings amount to \$800,000. Earnings Before Interest and Tax come to \$6,500,000. Total sales \$8,300,000 while the market value of equity is \$7,000,000.

Instructions// Prepare an analytical study of these data by using the (Altman and Mccovgh) ZScore Model to determine the extent of the entity's ability to continue (5 marks)

Q5/ A/ The following are the income statement and Comparative Balance sheet for Tiger Company:

Income Statement For the Year Ended December 31, 2018

Sales 200,000 , Cost of goods sold 80,000, Gross profit 120,000 , Operating expenses 30,000, Income before income tax 90,000 , Income tax expense 15,000, Net income 75,000

Comparative Balance Sheet as December 31, 2017 and 2018

<u>Particulars</u>	<u>2017</u>	<u>2018</u>
ASSETS		
Cash.....	100,000	80,000
Accounts receivable.....	50,000	90,000
Furniture.....	20,000	50,000
Total.....	170,000	220,000
Liabilities and stockholders' equity		
Accounts payable.....	40,000	25,000
Income tax payable.....	5,000	15,000
Common stock.....	90,000	100,000
Retained Earnings.....	35,000	80,000
Total.....	170,000	220,000

Additional information:

- 1) The company was declared and paid \$30,000 as dividend in 2018.
- 2) Common stock of \$10,000 was issued.

Instructions// Prepare the statement of cash flow by using Direct Method and compute the cash flow ratio(15 marks)

Q5/ B/ The company sold 100,000 units at \$7.50 each; its variable operating costs are \$3.00 per unit, and its fixed operating costs are \$250,000. Annual interest charges total \$80,000, and the firm has 8,000 shares of \$5 (annual dividend) preferred stock outstanding. It currently has 20,000 shares of common stock outstanding. Assume that the firm is subject to a 40% tax rate.

Instructions//Using the current \$750,000 level of sales as a base, calculate the firm's degree of operating leverage, the degree of financial leverage, and the degree of combined leverage (6 marks)

A.P. Jumana Handhal

Good Luck
A.L. Sameer I. Khalil

A.P.D Elham J. Hameed



Q 1// chose the correct answer:

1 -Any control system has four important elements : which element helps in comparing the result with the standard results?

a- A detector. b- An effector. c-An assessor. d-communication network.

2- In the value chain the design activity is before the

a- R&D activity. b- Production activity. c-Marketing activity. d-customer service.

3-Marley Company provides for July the following data: direct material standard quantity 3 meters per unit at standard price of \$420 per meter, direct labor standard time 2.5 hours per unit at standard labor rate of \$750 per hour, total budget overhead costs of \$800,000 , normal capacity 2,000 direct labor hours, and units produced are 720.The total standard cost per unit is:

a-\$4,531. b-\$5,341. c-\$4,351. d-\$4,135.

4-Fars Marine Stores Company manufactures decorative fittings for luxury yachts which require highly skilled labor, and special metallic materials. Fars uses standard costs to prepare its flexible budget. For the first quarter of 2021, direct material and direct labor standards for one of their popular products were as follows:

Materials: 1.5 pounds per unit; \$4.00 per pound

Labor: 2.0 hours per unit; \$18.00 per hour

During the first quarter, Fars produced 5,000 units of this product. Actual direct materials costs were \$29,750. Actual direct labor costs were \$184,800.

what is the direct materials cost variance?

a- \$250 F b- \$250 U c- \$480 F d- \$480 U

5- When the actual materials mix % is greater than standard materials mix %, the variance is:

a- Favorable. B- unboreable
c- neither favorable nor unfavorable d- non of the above

6- Al saymer company's standard labor rates \$14.90 per hour and according to the standards each unit of output requires 2.8 DLHs in June 1,800 units were produced , the actual labor rate was 15.80per DLH and the actual hours were 5,110 DLHs the labor time variance for June would be recorded as a :

a- debit of \$1,106 b-credit of \$1,106 c- credit \$1,043. d-\$debit \$1,043

7- If 20,000 kilograms of direct materials are purchased for \$14,400 on account and standard cost is \$70 per kilogram the journal entry to record the purchase is :

a- Material inventory control 14,400

 Accounts payable 14,400

b- work in process inventory control 14,400

 Accounts payable 14,000

 Material quantity variance 400

c- Material inventory control 14,400

 Accounts payable 14,000

 Material purchase price variance 400

d- Material inventory control 14,000

 Material purchase price variance 400

 Accounts payable 14,400

8-- In flexible budget costs that remain the same regardless of the output level within the relevant range are:

a- allocated cost. b- budgeted costs. c- fixed costs. d-variable costs.

9- 2- A flexible budget: b

a- is another name for management by exception,

b- its developed at the end of the period.

c- is based on the budgeted level of output. d- provide favorable operating result.

10- In the flexible budget , fixed overhead costs are \$25,000 ,total standard overhead rate \$150 per hour, standard variable overhead rate \$120 per hour, actual hours 2,500 standard hours 2,200 standard time required to produce on unit 1/2 hour, flexible budget allowance for actual hours is:

a- \$325,000. b-\$300,000. c-\$320,000. d-\$275,000

11- Total budget overhead rate is computed per:

a- Direct labor hour. b-machine hour. c-unit produced. d-all the above

12- For fixed manufacturing overhead there is no:

a- spending variance. b- efficiency variance.

c- flexible-budget variance. d-production volume variance.

Q 4/ BAGHDAD Bicycles has been manufacturing its own wheels for its bikes. The variable manufacturing overhead is charged to production at the rate of %30 of direct labor cost. The direct materials and direct labor cost per unit to make the wheels are \$3.00 and \$3.60 respectively. The fixed manufacturing overhead is \$84,000. Normal production is 200,000 wheels per year.

A supplier offers to make the wheels at a price of \$8 each. If the bicycle company accepts this offer, all variable manufacturing costs will be eliminated.

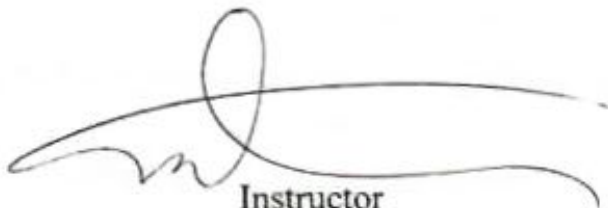
Required:

a. If the fixed manufacturing overhead will not be eliminated, should BAGHDAD Bicycles make or buy the wheels.

b. If 50% of fixed manufacturing overhead can use in other alternative, should BAGHDAD Bicycles make or buy the wheels.

------(15 Mark)


With my best wishes



Instructor
Dr. MOHANAD MOHAMED



Head of Dept.
Dr. ELHAM AL-SHAWI



Dean of College
Dr. ABDULHUSIEN TAWFEEQ



ملاحظة // الاجابة على اربعة اسئلة توزع الدرجة بالنسبة (١٩.٥ درجة لكل سؤال)

س ١ / في ١/١/٢٠٢١ اشترت شركة العظبة ٩٠% من اسهم شركة مفريد بسعر ١١٠٠٠٠٠ يورو واصبحت شركة مفريد شركة تابعة. وتمسك شركة العظبة بحساباتها بالدينار في حين ان شركة مفريد تقدم بياناتها باليورو. وقد ظهرت ميزانية الشركة التابعة عند التمسك على النحو التالي:

قائمة الميزانية في ١/١/٢٠٢١ (معدة باليورو)

البيان		
الموجودات		
التقنية	١٠٠٠	
المخزون	٢٠٠٠	
معدات	٧٠٠٠	
مخصص اندثار معدات	(٢٠٠٠)	
صافي المعدات	٥٠٠٠	
مجموع الموجودات	٨٠٠٠	
المطلوبات وحقوق الملكية		
المطلوبات		
مصاريف مستحقة الدفع	٣٠٠٠	
حقوق الملكية		
راس المال	٢٠٠٠	
راس المال الاضافي	٥٠٠	
ارباح محتجزة	٢٥٠٠	
مجموع المطلوبات وحقوق الملكية	٨٠٠٠	

في ٣١/١٢/٢٠٢١ ظهر ميزان المراجعة في ٣١/١٢/٢٠٢١ (المبلغ باليورو)

البيان	ارصدة مدينة	ارصدة دائنة
التقنية	٣٠٠٠	
مدينون	٥٠٠٠	
المخزون	٤٠٠٠	
معدات	٧٠٠٠	
مخصص اندثار المعدات		٣٠٠٠
مصاريف مستحقة		١٠٠٠
راس المال		٢٠٠٠
راس المال الاضافي		٥٠٠
ارباح محتجزة ١/١		٧٥٠٠
المبيعات		٢٠٠٠٠
تكلفة المبيعات	١٠٠٠٠	
اندثار المعدات	١٠٠٠	
مصاريف ادارية وصومية	٤٠٠٠	
المجموع	٢١٠٠٠	٢١٠٠٠

كان سعر صرف اليورو مقابل الدينار في بداية عام ٢٠٢١ = ٠.٨ دينار / يورو وفي نهاية سنة ٢٠٢١ = ٠.٩ دينار يورو. ومتوسط سعر الصرف خلال العام ٢٠٢١ = ٠.٨٥ دينار / يورو
المطلوب: ترجمة ميزان المراجعة واعداد القوائم المالية

س٢/ في ٢٠٢١/١٠/١ قامت شركة البصرة بشراء بضاعة من احدى الشركات الاجنبية بمبلغ ١٥٠٠٠٠٠٠٠ دولار وتم الاتفاق على سداد نصف المبلغ بتاريخ ٢٠٢٢/٣/١ والنصف الاخر ٢٠٢٢/٥/١ وقد كانت اسعار الصرف كالتالي:

٢٠٢١/١٠/١ ١ دولار = ١٢٥٠ دينار

٢٠٢١/١٢/٣١ ١ دولار = ١٣٥٠ دينار

٢٠٢٢/٣/١ ١ دولار = ١٤٠٠ دينار

٢٠٢٢/٥/١ ١ دولار = ١٤٥٠ دينار

المطلوب: اثبات العمليات اعلاه في دفاتر شركة البصرة

س٣/ اشرح تأثير العوامل الثقافية في تشكيل النظم المحاسبية على المستوى الدولي

س٤/ ما هي العوامل التي تؤثر في اختلاف التطبيقات المحاسبية على مستوى دول العالم وشرحها.

س٥/ اصدر مجلس معايير المحاسبة الدولية عدد من الاصدارات الخاصة بالاطار المفاهيمي، اشرح خصائص المعلومات المحاسبية.

أ.د. عبدالحسين توفيق شبلي
العميد

أ.م.د. الهام جعفر الشاوي
رئيس قسم المحاسبة

أ.م.د. منذر جبار داغر
استاذ المادة

13- A device that measures what is Actually happening in the situation being controlled is:

- a - An assessor b- A detector. c - An effector. d- A communication

14- A company provides the following information, standard material price of \$75 per Kg, actual material price of \$70 per Kg, material price variance of \$156,000(F), what is the actual material quantity for actual production?

- a- 31,000 Kgs. b-31,200 Kgs. c-32,100 Kgs. d-32,000 Kgs.

15- If you know that the standard labor cost per unit is (4 hrs. x \$7 per hr. = \$28), actual time per unit 3.5 hours, actual labor rate of \$7.50 per ,actual production 3,500 units ,total labor variance is:

- a- \$6,125(u). b-\$7,000(F). c-\$7,000(U) d-\$6,125(F)

16- Using write-off to cost of goods sold approach , when standard cost variance are closed:

- a- Unfavorable variance increase cost of goods sold and favorable variance decrease cost of goods sold.
b- Favorable variance increase cost of goods sold and un favorable variance decrease cost of goods sold.
c-The cost of goods sold no effect.
d-Both favorable and unfavorable variance decrease cost of goods sold.

17-If the production more than sale the income under absorption costing will be:

- a-Less than income under variable costing. b- equal variable income costing
c-More than income under variable costing. d- no one of above.

18-If actual direct labor hours 4,500, standard labor hours 5,000 standard variable overhead rate \$5 per DLH, standard fixed overhead rate \$0.45 per DLH ,actual variable overhead \$24,750 and fixed overhead \$2,250, variable spending variance is:

- a- \$2,500 (U). b-\$2,250(U). c-\$2,250(F). d-\$2,500(F)

19-Standard material price of \$70 per meter, actual material quantity for actual production 1,450 meters, material price variance of \$14,500 (U) what is the actual price?

- a- \$75 per meter. b-\$70 per meter. c-\$80 per meter. d-\$80

20- The position of cost accounting in organizational structure falls:

- a- with production department. b-is independent unit.
c- with in finance department d-other, specify.....

24
14
38

~r~

20 Marks

Answer three of the following (10 marks for each)

Q 2// The Milano Company has established the following standard mix for producing 9 liters of product A:

5 liters of material X at \$ 7 per liter	\$35
3 liters of material Y at \$ 5 per liter	\$15
2 liters of material Z at \$ 2 per liter	\$4

A standard loss of 10% of input is expected to occur. Actual input was

53,000 liters of material X at \$7 per liter	371,000
28,000 liters of material Y at \$5.30 per liter	148,400
<u>19,000</u> liters of material Z at \$2.20 per liter	<u>41,800</u>
100,000	\$561,200

Actual output for the period was 92,700 liters of product A.

Required: compute the material mix and yield variance.

Q 3// Al Noor Company determines the standard overhead rates for 2022 based on 10,000 machine hours as a normal capacity. the standard time required to produce one unit is 4 machine hours. The budget variable overhead rate is \$70 per machine hour and fixed overhead costs are \$800,000. during 2022 the company produced 4,800 units of product and worked 20,400 machine hours. For the year actual overhead costs were \$2,888,400

Required: compute the overhead variance using 3- variances method.

Q 4// Al Bader Company produce the wood table the standard time to make one table is 2 hours. The standard labor rate is \$3,000 per hour, production during the month was 1,000 table. The normal hours worked were 2,200 hours, and overtime on day was 150 hours, normal idle time was 10 hours, and abnormal idle time was 5 hours. The both types of idle time have not recorded into normal hours neither into overtime. The actual labor rate was \$3,500 per hour.

Required (1) Compute the total cost of idle time.


(2) Compute the direct labor variance

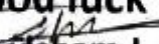
Q 5// IBM Company provide you the following data month of April 2023


Actual data: direct material used of 7,200 Kgs at actual price \$2.1 per Kg. Direct labor of 3,000 hours at actual labor rate \$2.8 per hour, variable overhead costs \$2,500 and fixed overhead costs \$3,000, the cost variances occurred during the month are as follow:

Price variance \$750(U), quantity variance \$250(U), labor rate variance \$600(U), labor time variance \$600(U), controllable variance \$1,000(U), volume variance \$250(F). actual production was 1,500 units, standard cost for finished is \$26,070 and standard cost for units sold is \$15,000.

Required: Record the journal entries according to the partial method.


A.D. AbdulHuseen .T. Shabli
Dean

Good luck

A.P. D. Afham J. Hameed
Head of Department


A.P. Fayha A. Mahmmmod
Lecturer



Note: Answer three questions, with the first question being part of the answer.

ملاحظة: اجب عن ثلاث اسئلة، على ان يكون السؤال الاول من ضمن الاجابة.

Q 1/ BASRA Manufacturing produces a single product that sells for \$8. Variable costs per unit equal \$4. The company expects total fixed costs to be \$200.

Use CVP graph to find the following (divide the X by 10 and Y by 100):

1. BEP of units and sales.
2. If the company produce and sale 40 units, what will be the operating income (loss or profit), by how much.
3. If the company want to get \$100 operating income, how many units must be sale.

------(20 Mark)

Q 2/ Answer 10 of the following sentences by True or False:

1. Work-in-process inventory are goods partially worked on but not yet completed.
2. To perform cost-volume-profit analysis, a company must be able to separate costs into fixed and variable components.
3. Breakeven point is that quantity of output where total revenues equal total costs.
4. In the graph method of CVP analysis, the breakeven point is the (X-axis) quantity of units sold for which the total revenues line crosses the total costs line.
5. A profit-volume graph shows the impact on operating income from changes in the output level.
6. If the selling price per unit is \$50 and the contribution margin percentage is 40%, then the variable cost per unit must be \$20.
7. The amount paid to purchase equipment last year is an example of a sunk cost.
8. Full costs of a product include variable costs, but not fixed costs.
9. Revenues that remain the same for two alternatives being examined are relevant revenues.
10. The cost of a machine purchased last year will be irrelevant in a decision for next year.
11. A cost may be relevant for one decision, but NOT relevant for a different decision.

------(15 Mark)

Q 3/ Assume the following cost information for Fernandez Company:

Selling price \$120 per unit
Variable costs \$80 per unit
Total fixed costs \$80,000
Tax rate 40%

Required:

1. What is volume of sales dollars is required to earn an after-tax net income of \$30,000?
2. What is the number of units that must be sold to earn an after-tax net income of \$42,000?

------(15 Mark)

13- A device that measures what is Actually happening in the situation being controlled is:

- a - An assessor **b- A detector.** c - An effector. d- A communication

14- A company provides the following information, standard material price of \$75 per Kg, actual material price of \$70 per Kg, material price variance of \$156,000(F), what is the actual material quantity for actual production?

- a- 31,000 Kgs. **b-31,200 Kgs.** c-32,100 Kgs. d-32,000 Kgs.

15-If you know that the standard labor cost per unit is (4 hrs. x \$7 per hr. = \$28), actual time per unit 3.5 hours, actual labor rate of \$7.50 per, actual production 3,500 units, total labor variance is:

- a- \$6,125(u).** b-\$7,000(F). c-\$7,000(U) **d-\$6,125(F)**

16- Using write-off to cost of goods sold approach, when standard cost variance are closed:

- a- Unfavorable variance increase cost of goods sold and favorable variance decrease cost of goods sold.
b- Favorable variance increase cost of goods sold and unfavorable variance decrease cost of goods sold.
c-The cost of goods sold no effect.
d-Both favorable and unfavorable variance decrease cost of goods sold.

17-If the production more than sale the income under absorption costing will be:

- a-Less than income under variable costing.** b- equal variable income costing
c-More than income under variable costing. d- no one of above.

18-If actual direct labor hours 4,500, standard labor hours 5,000 standard variable overhead rate \$5 per DLH, standard fixed overhead rate \$0.45 per DLH, actual variable overhead \$24,750 and fixed overhead \$2,250, variable spending variance is:

- a- \$2,500 (U). **b-\$2,250(U).** c-\$2,250(F). d-\$2,500(F)

19-Standard material price of \$70 per meter, actual material quantity for actual production 1,450 meters, material price variance of \$14,500 (U) what is the actual price?

- a- \$75 per meter. b-\$70 per meter. c-\$80 per meter. **d-\$80**

20- The position of cost accounting in organizational structure falls:

- a- with production department. **b-is independent unit.**
c- with in finance department **d-other, specify.....**

20 Marks

101,500

~2~

Answer three of the following (10 marks for each)

Q 2// The Milano Company has established the following standard mix for producing 9 liters of product A:

5 liters of material X at \$ 7 per liter	\$35
3 liters of material Y at \$ 5 per liter	\$15
2 liters of material Z at \$ 2 per liter	\$4

A standard loss of 10% of input is expected to occur. Actual input was

53,000 liters of material X at \$7 per liter	371,000
28,000 liters of material Y at \$5.30 per liter	148,400
<u>19,000</u> liters of material Z at \$2.20 per liter	<u>41,800</u>
100,000	\$561,200

Actual output for the period was 92,700 liters of product A.

Required: compute the material mix and yield variance.

Q 3// Al Noor Company determines the standard overhead rates for 2022 based on 10,000 machine hours as a normal capacity. the standard time required to produce one unit is 4 machine hours. The budget variable overhead rate is \$70 per machine hour and fixed overhead costs are \$800,000. during 2022 the company produced 4,800 units of product and worked 20,400 machine hours. For the year actual overhead costs were \$2,888,400

Required: compute the overhead variance using 3- variances method.

Q 4// Al Bader Company produce the wood table the standard time to make one table is 2 hours. The standard labor rate is \$3,000 per hour, production during the month was 1,000 table. The normal hours worked were 2,200 hours, and overtime on day was 150 hours, normal idle time was 10 hours, and abnormal idle time was 5 hours. The both types of idle time have not recorded into normal hours neither into overtime. The actual labor rate was \$3,500 per hour.

Required (1) Compute the total cost of idle time.

(2) Compute the direct labor variance

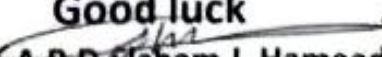
Q 5// IBM Company provide you the following data month of April 2023


Actual data: direct material used of 7,200 Kgs at actual price \$2.1 per Kg. Direct labor of 3,000 hours at actual labor rate \$2.8 per hour, variable overhead costs \$2,500 and fixed overhead costs \$3,000, the cost variances occurred during the month are as follow: Price variance \$750(U), quantity variance \$250(U) , labor rate variance \$600(U), labor time variance \$600(U) ,controllable variance \$1,000(U) ,volume variance \$250(F).actual production was 1,500 units , standard cost for finished is \$26,070 and standard cost for units sold is \$15,000.

Required: Record the journal entries according to the partial method.


A.D. AbdulHuseen .T. Shabli
Dean

Good luck


A.P.D. Elaham J. Hameed
Head of Department


A.P. Fayha A. Mahmmod
Lecturer

13- A device that measures what is Actually happening in the situation being controlled is:

- a - An assessor b- A detector. c - An effector. d- A communication

14- A company provides the following information, standard material price of \$75 per Kg, actual material price of \$70 per Kg, material price variance of \$156,000(F), what is the actual material quantity for actual production?

- a- 31,000 Kgs. b-31,200 Kgs. c-32,100 Kgs. d-32,000 Kgs.

15- If you know that the standard labor cost per unit is (4 hrs. x \$7 per hr. = \$28), actual time per unit 3.5 hours, actual labor rate of \$7.50 per ,actual production 3,500 units ,total labor variance is:

- a- \$6,125(u). b-\$7,000(F). c-\$7,000(U) d-\$6,125(F)

16- Using write-off to cost of goods sold approach , when standard cost variance are closed:

- a- Unfavorable variance increase cost of goods sold and favorable variance decrease cost of goods sold.
b- Favorable variance increase cost of goods sold and un favorable variance decrease cost of goods sold.
c-The cost of goods sold no effect.
d-Both favorable and unfavorable variance decrease cost of goods sold.

17-If the production more than sale the income under absorption costing will be:

- a-Less than income under variable costing. b- equal variable income costing
c-More than income under variable costing. d- no one of above.

18-If actual direct labor hours 4,500, standard labor hours 5,000 standard variable overhead rate \$5 per DLH, standard fixed overhead rate \$0.45 per DLH ,actual variable overhead \$24,750 and fixed overhead \$2,250, variable spending variance is:

- a- \$2,500 (U). b-\$2,250(U). c-\$2,250(F). d-\$2,500(F)

19-Standard material price of \$70 per meter, actual material quantity for actual production 1,450 meters, material price variance of \$14,500 (U) what is the actual price?

- a- \$75 per meter. b-\$70 per meter. c-\$80 per meter. d-\$80

20- The position of cost accounting in organizational structure falls:

- a- with production department. b-is independent unit.
c- with in finance department d-other, specify.....

24
14
38

~r~

20 Marks



Q 1// chose the correct answer:

1 -Any control system has four important elements : which element helps in comparing the result with the standard results?

a- A detector. b- An effector. c- An assessor. d- communication network.

2- In the value chain the design activity is before the

a- R&D activity. b- Production activity. c- Marketing activity. d- customer service.

3- Marley Company provides for July the following data: direct material standard quantity 3 meters per unit at standard price of \$420 per meter, direct labor standard time 2.5 hours per unit at standard labor rate of \$750 per hour, total budget overhead costs of \$800,000, normal capacity 2,000 direct labor hours, and units produced are 720. The total standard cost per unit is:

a- \$4,531. b- \$5,341. c- \$4,351. d- \$4,135. 3022

4- Fars Marine Stores Company manufactures decorative fittings for luxury yachts which require highly skilled labor, and special metallic materials. Fars uses standard costs to prepare its flexible budget. For the first quarter of 2021, direct material and direct labor standards for one of their popular products were as follows:

Materials: 1.5 pounds per unit; \$4.00 per pound

Labor: 2.0 hours per unit; \$18.00 per hour

During the first quarter, Fars produced 5,000 units of this product. Actual direct materials costs were \$29,750, Actual direct labor costs were \$184,800.

what is the direct materials cost variance?

a- \$250 F b- \$250 U c- \$480 F d- \$480 U

5- When the actual materials mix % is greater than standard materials mix %, the variance is:

a- Favorable. B- unboreable

c- neither favorable nor unfavorable

d- non of the above

6- Al saymer company's standard labor rates \$14.90 per hour and according to the standards each unit of output requires 2.8 DLHs in June 1,800 units were produced, the actual labor rate was 15.80 per DLH and the actual hours were 5,110 DLHs the labor time variance for June would be recorded as a :

a- debit of \$1,106 b- credit of \$1,106 c- credit \$1,043. d- \$debit \$1,043

-1-

76139
5,040

7- If 20,000 kilograms of direct materials are purchased for \$14,400 on account and standard cost is \$70 per kilogram the journal entry to record the purchase is :

- a- Material inventory control 14,400
 Accounts payable 14,400
- b- work in process inventory control 14,400
 Accounts payable 14,000
 Material quantity variance 400
- c- Material inventory control 14,400
 Accounts payable 14,000
 Material purchase price variance 400
- d- Material inventory control 14,000
 Material purchase price variance 400
 Accounts payable 14,400

8-- In flexible budget costs that remain the same regardless of the output level within the relevant range are:

- a- allocated cost. b- budgeted costs. c- fixed costs. d-variable costs.

9- 2- A flexible budget: b

- a- is another name for management by exception,
b- its developed at the end of the period.
c- is based on the budgeted level of output. d- provide favorable operating result.

10- In the flexible budget , fixed overhead costs are \$25,000 ,total standard overhead rate \$150 per hour, standard variable overhead rate \$120 per hour, actual hours 2,500 standard hours 2,200 standard time required to produce on unit 1/2 hour, flexible budget allowance for actual hours is:

- a- \$325,000. b-\$300,000. c-\$320,000. d-\$275,000

11- Total budget overhead rate is computed per:

- a- Direct labor hour. b-machine hour. c-unit produced. **d-all the above**

12- For fixed manufacturing overhead there is no:

- a- spending variance. **b-efficiency variance.**
c- flexible-budget variance. d-production volume variance.